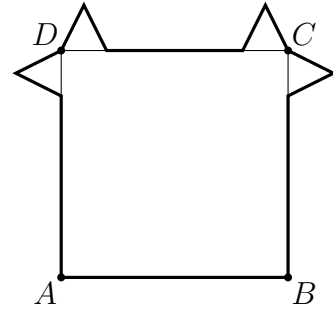
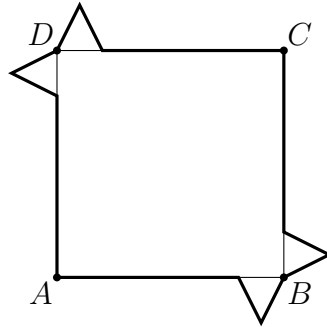
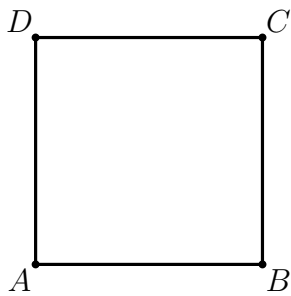


Symmetrien am Quadrat

Aufgabe 2

Welche Symmetrien besitzt das Quadrat? Welche Symmetrien besitzen die beiden anderen Figuren, bei denen zum Quadrat jeweils vier gleiche Dreiecke hinzugefügt wurden?



Hinweis: Zeichne als erstes die Symmetrieachsen im Quadrat ein und bezeichne sie geeignet.