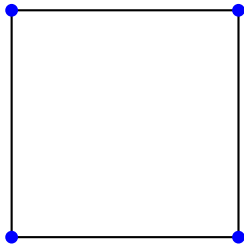


Bipartite Graphen

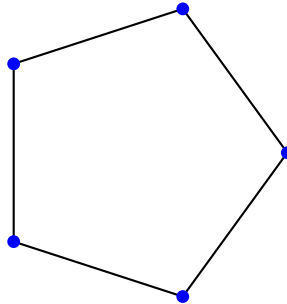
Aufgabe 7

Stelle mit Hilfe der Färbemethode fest, ob die Graphen bipartit sind oder nicht. Trage in die Tabelle J für Ja, N für Nein ein.

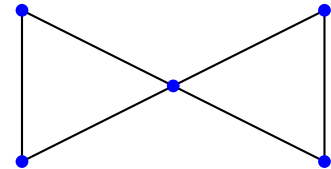
Graph 1:



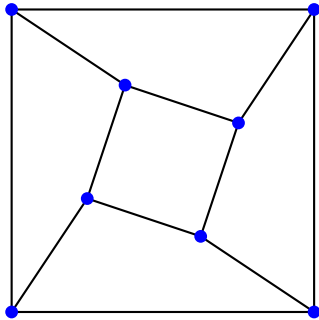
Graph 2:



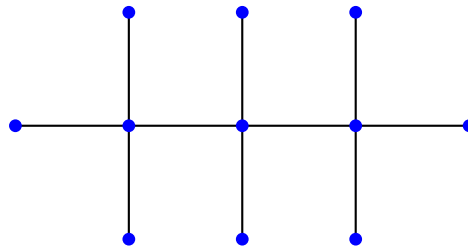
Graph 3:



Graph 4:



Graph 5:



Graph	Graph 1	Graph 2	Graph 3	Graph 4	Graph 5
ist bipartit					